

1



Apakah bertanda **X**?

- A Raja
- B Sempadan
- C Pemerintah
- D Wilayah Pengaruh

2 Apakah peranan rakyat Kesultanan Melayu Melaka?

- A Mengutip hasil
- B Membina istana
- C Menjaga keselamatan
- D Membekalkan makanan

3 Tindakan berikut telah dilakukan oleh Thailand semasa Perang Dunia Kedua.

Bekerjasama dengan Jepun

Apakah kesan terhadap negara tersebut?

- A Pemodenan sistem pentadbiran
- B Penghijrahan rakyat dapat diatasi
- C Pengekalan kemerdekaan negara
- D Penguasaan ekonomi oleh imigran

- 4 Maktab Melayu Kuala Kangsar (MCKK) dan Maktab Perguruan Sultan Idris (MPSI) merupakan antara institusi pendidikan yang menyemarakkan nasionalisme menentang penjajah.

Bagaimanakah institusi pendidikan ini berfungsi menyemarakkan nasionalisme?

- A Mewujudkan sistem pendidikan madrasah
- B Mendedahkan pelajar dengan pemodenan Islam
- C Menerima kunjungan ulama dari Sumatera Barat
- D Melahirkan golongan yang memimpin rakyat

- 5 Maklumat berikut menunjukkan pakatan yang terlibat dalam Perang Dunia Pertama.

- | |
|--|
| <ul style="list-style-type: none">• Kuasa Tengah• Pakatan Bertiga |
|--|

Apakah matlamat pakatan tersebut?

- A Menguasai pasaran
 - B Menubuhkan kerajaan republik
 - C Menghapuskan keganasan
 - D Menentang dasar apartheid
- 6 Tentera Jepun telah mengenakan hukuman terhadap orang Cina di Tanah Melayu. Apakah hukuman tersebut?

- A Menjadikan tawanan perang
- B Memberikan layanan yang kejam
- C Memulihkan ekonomi negara
- D Menghantar balik ke negara asal

- 7 Tugas British Military Administration (BMA) ialah mengembalikan kepercayaan rakyat kepada mereka.

Mengapakah BMA bertindak sedemikian?

- A Membantu memulihkan ekonomi
- B Mengukuhkan kedudukan British
- C Menyokong kepulauan British
- D Menentang pengaruh Jepun


- 8 Jadual berikut menunjukkan usaha orang Melayu menentang Malayan Union

Tarikh	1 – 4 Mac 1946
Peristiwa	Kongres Melayu Pertama
Tempat	Kelab Sultan Sulaiman, Kuala Lumpur

Apakah kepentingan peristiwa tersebut?

- A Perasaan perkauman dihapuskan
 - B Memupuk perpaduan orang Melayu
 - C Status quo orang Melayu terpelihara
 - D Mengugat kedudukan orang Melayu
- 9 British perlu melaksanakan dasar dekolonisasi yang disarankan melalui Piagam Atlantik. Apakah maksud dasar dekolonisasi?
- A Meningkatkan kerjasama ekonomi
 - B Menyeragamkan sistem pentadbiran
 - C Proses menubuhkan kerajaan sendiri
 - D Pembentukan masyarakat yang berbilang kaum
- 10 Rakyat Raja mendapat kewarganegaraan secara kuat kuasa undang-undang. Apakah syarat untuk menjadi Rakyat Raja?
- I Tingkah laku yang baik
 - II Keluarganya rakyat tempatan
 - III Bertutur bahasa tempatan
 - IV Memahami adat resam
- A I dan II
 - B I dan IV
 - C II dan III
 - D III dan IV

- 11 Gambar berikut berkaitan dengan kerosakan yang dilakukan oleh komunis Tanah Melayu



Mengapakah mereka bertindak sedemikian?

- I Menamatkan Malayan Union
 - II Melumpuhkan ekonomi negara
 - III Menubuhkan kerajaan republik
 - IV Menentang pentadbiran Jepun
- A I dan II
 - B I dan IV
 - C II dan III
 - D III dan IV
- 12 Apakah hukuman yang dikenakan terhadap pesalah berikut semasa penguatkuasaan Undang-undang Darurat?

- Membawa senjata api
- Membawa bahan letupan

- A Hukuman buang negeri
- B Hukuman penjara
- C Hukuman denda
- D Hukuman mati

13 Sistem Ahli dilaksanakan pada bulan April hingga Jun 1955. Apakah gelaran lain bagi sistem tersebut?

- A Sistem Jemaah Menteri
- B Sistem kabinet bayangan
- C Sistem pentadbiran pusat
- D Sistem Penasihat Persekutuan

14 Maklumat berikut berkaitan dengan penubuhan parti politik di Tanah Melayu.

Tarikh	September 1951
Parti	Independence of Malayan Party (IMP)
Pengasas	Dato' Onn Bin Jaafar Tan Cheng Lock

Apakah tujuan penubuhan parti tersebut?

- I Menyatukan pelbagai kaum
 - II Mencapai kemerdekaan negara
 - III Menjaga kepentingan penduduk
 - IV Menuntut keadilan sosioekonomi
- A I dan II
 - B I dan IV
 - C II dan III
 - D III dan IV

15 Dialog berikut mungkin berlaku semasa pendaftaran calon pilihan raya.

En Riduan: Saya berhajat untuk menjadi calon Pilihan Raya Majlis Perundangan Persekutuan 1955.
En. Samad: Saya yakin En. Riduan mesti berjaya menjadi calon

Berdasarkan dialog di atas, apakah syarat-syarat En Riduan menjadi calon pilihan raya ?

- A Tidak muflis

- B Taat pada negara
- C Berumur 18 tahun ke atas
- D Tinggal di Tanah Melayu dalam tempoh 12 bulan

16 Gambar berikut merujuk kepada Parlimen Persekutuan Malaya yang ditubuhkan pada 11 September 1959.



Siapakah yang merasmikan persidangan pertama tersebut?

- A Perdana Menteri
 - B Raja-Raja Melayu
 - C Yang di-Pertuan Agong
 - D Pesuruhjaya Tinggi British
- 17 Pernyataan di bawah berkaitan dengan hasil persetujuan di London

Pada 8 Mac 1956, kerajaan British mengumumkan pembentukan suruhanjaya bebas setelah mendapatkan persetujuan Raja-raja Melayu.

Apakah peranan suruhanjaya tersebut?

- A Mengadakan pilihan raya
- B Mengkaji dasar pendidikan kebangsaan
- C Merangka perlembagaan negara yang merdeka
- D Membentuk satu badan khas mengatasi masalah komunis

- 18 Pernyataan berikut berkaitan dengan kedudukan agama Islam

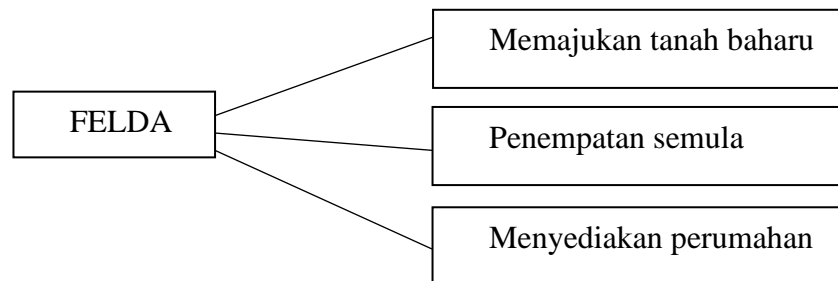
Agama Islam ialah agama rasmi Persekutuan

Apakah bukti yang menyokong pernyataan di atas?

- A Termaktub dalam Perlembagaan Persekutuan
 - B Agama Islam telah disebarikan oleh pedagang
 - C Tanah Melayu mempunyai ramai orang Islam
 - D Melaka menjadi pusat penyebaran agama Islam
- 19 **Jata Negara** yang diperkenalkan oleh Raja-raja Melayu pada 30 Mei 1957.
Apakah cogan kata dalam Jata Negara tersebut?

- A Bersekutu Bertambah Mutu
- B Kepercayaan Kepada Tuhan
- C Bertekad ke Arah Maju
- D Bersih, Cekap, Amanah

- 20 Berikut adalah usaha yang diambil oleh Lembaga Kemajuan Tanah Persekutuan (FELDA)

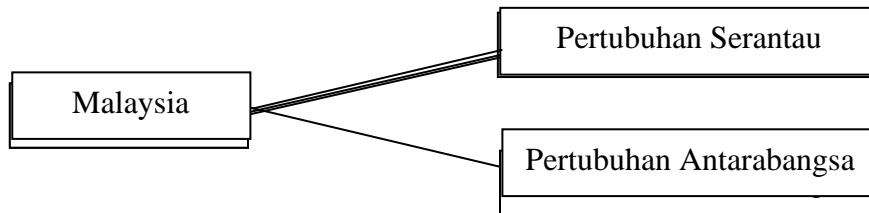


Apakah rasional tindakan tersebut dilakukan oleh Felda?

- A Menggunakan tanah sepenuhnya
 - B Membantu pekebun-pekebun kecil
 - C Mempelbagaikan keluaran pertanian
 - D Membangunkan kawasan luar bandar
- 21 Apakah takrif kedaulatan mengikut bahasa Melayu?

- A Kekuasaan tertinggi terhadap pemerintahan negara
- B Negara berkuasa penuh terhadap pemerintahan
- C Kuasa pemerintahan sesebuah negara
- D Negara yang bebas dan merdeka

22 Rajah menunjukkan Hubungan Luar Malaysia.



Apakah faedah daripada hubungan luar tersebut?

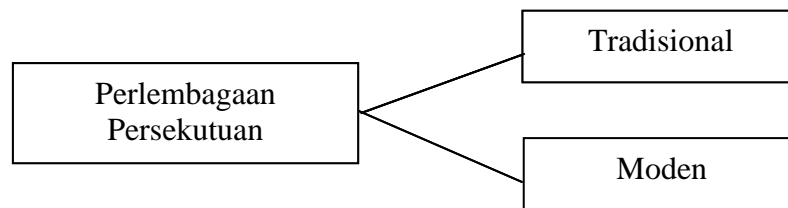
- I Mendapat bantuan pertahanan
 - II Membentuk kerjasama ekonomi
 - III Meningkatkan imej negara
 - IV Membuka pasaran luar
- A I dan II
 - B I dan IV
 - C II dan III
 - D III dan IV

- 23 Gambar menunjukkan bangunan Parlimen di Malaysia.



Apakah peranan **Parlimen** dalam pentadbiran negara kita?

- A Memilih Perdana Menteri
 - B Mengekalkan kedaulatan negara
 - C Membentuk undang-undang negara
 - D Melantik Yang di-Pertuan Agong
- 24 Rajah di bawah merujuk kepada ciri utama Perlembagaan Persekutuan.



Manakah antara berikut merupakan ciri tradisional perlembagaan persekutuan?

- I Kewarganegaraan
 - II Agama Islam
 - III Bahasa Melayu
 - IV Kerajaan Persekutuan
- A I dan II
 - B I dan IV
 - C II dan III
 - D III dan IV

25 Apakah fungsi **Majlis Raja-Raja** dalam sistem Raja Berperlembagaan?

- A Memilih Yang di-Pertuan Agong
- B Ketua angkatan tentera
- C Melantik Timbalan Perdana Menteri
- D Ketua agama Islam

26 Pilih pasangan betul tentang badan pemerintahan di negara kita.

	Badan	Peranan
A	Badan Perundangan	Mentafsir perlembagaan
B	Badan Kehakiman	Menggubal undang-undang
C	Badan Pelaksana	Melaksana dasar kerajaan
D	Badan Kehakiman	Melaksana pilihan raya

27 Senarai Negeri merupakan kuasa yang diperuntukan kepada Kerajaan Negeri. Antara perkara berikut manakah terkandung dalam **Senarai Negeri**?

- A Tanah
- B Biasiswa
- C Kesihatan
- D Pertahanan

28 Maklumat berikut merujuk kepada kerjasama Kerajaan Persekutuan dengan Kerajaan Negeri.

Kerajaan Persekutuan	Kerajaan Negeri
Melaksanakan Program Perumahan Rakyat (PPR)	Menubuhkan program Perumahan Awam Kos Rendah (PAKR)

Mengapakah kerjasama tersebut diwujudkan ?

- A Memberikan pekerjaan kepada golongan miskin

- B Meningkatkan taraf hidup rakyat bandar
- C Memajukan kawasan luar bandar
- D Membasmi kemiskinan

29 Gerakan nasionalis sebelum Perang Dunia Kedua turut menyuarakan idea gagasan Malaysia.

Apakah matlamat perjuangan mereka?

- A Kemerdekaan wilayah Alam Melayu
- B Persekutuan Malaysia tanpa Singapura
- C Penggabungan bekas tanah jajahan British
- D Kemerdekaan berasingan Sarawak, Sabah dan Brunei

30 Senarai berikut berkaitan dengan usul Jawatankuasa Antara Kerajaan(JAK) yang dimasukkan ke dalam Perlembagaan Persekutuan.

- 18 perkara bagi Sarawak
- 20 perkara bagi Sabah

Apakah
tersebut terhadap Sarawak dan Sabah?

kepentingan perkara

- A Meningkatkan ekonomi negeri
- B Mengatasi tentangan rakyat
- C Meningkatkan taraf hidup
- D Menjamin hak rakyat

31 Apakah faktor pemisahan Singapura daripada Malaysia pada tahun 1965?

- A Pembahagian kuasa antara negeri
- B Peruntukan pembangunan terhad
- C Pembayaran cukai tambahan
- D Penentangan negara jiran

32 Komunis melakukan serang hendap terhadap pasukan keselamatan di Semenanjung Malaysia.

Apakah kemuncak ancaman komunis tersebut?

- A Pengeboman kubu pertahanan
- B Menembak mati askar Melayu
- C Menyerang balai polis Kuala Krau
- D Pembunuhan pegawai kanan polis

33 Akta Bahasa Kebangsaan telah digubal di bawah Perkara 152 Perlembagaan Persekutuan Malaysia.

Bagaimanakah bahasa Melayu diperkasakan dalam sistem pendidikan?

- I Menggalakkan penglibatan swasta
 - II Menubuhkan Kolej Sultan Abdul Halim
 - III Pembukaan sekolah menengah kebangsaan
 - IV Penggunaan sepenuhnya dalam urusan mahkamah
- A I dan II
 - B I dan IV
 - C II dan III
 - D III dan IV

34 Gambar berikut berkaitan logo temasya **Sukan Malaysia (SUKMA)**.



Apakah tujuan temasya tersebut diadakan?

- A Mendapat pengiktirafan antarabangsa
- B Memperkasa integrasi nasional
- C Memajukan sektor pelancongan
- D Menyemai semangat sukarelawan

35 Apakah hasil pertanian yang diusahakan dalam program **Lembaga Kemajuan Pahang Teggara(DARA)**?

- I Getah
- II Kelapa
- III Tembakau
- IV Kelapa Sawit
- A I dan II
- B I dan IV
- C II dan III
- D III dan IV

36 Maklumat berikut berkaitan strategi **Dasar Pembangunan Nasional (DPN)** dalam bidang sosial.

- Memberi kemudahan pendidikan
- Mewujudkan masyarakat perdagangan
- X

Apakah X?

- A Membentuk masyarakat berdisiplin
- B Menggunakan sains dan teknologi
- C Menambah baik kemudahan asas
- D Meningkatkan kesihatan rakyat

37 Tahun 1990-an memperlihatkan Malaysia mula menjalinkan hubungan dengan negara sedang membangun di Afrika dan negara di Kepulauan Pasifik Selatan. Apakah faktor utama yang mempengaruhi perubahan tersebut?

- A Kepimpinan
- B Ikatan sejarah
- C Keperluan semasa
- D Keperluan perdagangan

38 Organisasi berikut merupakan agensi di bawah Pertubuhan Bangsa-Bangsa Bersatu (PBB).

**Pertubuhan Pendidikan, Sains dan
Kebudayaan (UNESCO)**

Apakah matlamat yang diperolehi Malaysia melalui organisasi tersebut?

- A Pemberian bantuan kemanusiaan
- B Pengiktirafan tapak warisan dunia
- C Peruntukan pembangunan wilayah
- D Perlindungan kepada pelarian

39 Pada tahun 1963, persefahaman antara Malaysia, Filipina dan Indonesia telah mewujudkan **MAPHILINDO**.

Apakah tujuan penubuhan tersebut?

- A Menjalinkan kerjasama ekonomi
- B Menangani ancaman komunis
- C Mewujudkan kerjasama kebudayaan
- D Menyelesaikan isu penubuhan Malaysia

40 Pernerdagangan manusia merupakan satu strategi jenayah terancang. Mengapakah Malaysia menjadi lokasi transit bagi jenayah tersebut?

- A Kemakmuran negara
- B Kelonggaran imigresen
- C Kemajuan pelancongan
- D Ketiadaan undang-undang

KERTAS PEPERIKSAAN TAMAT